






tarjetas de monedas



instrucciones

Colorea estas monedas. Luego recorta cada cuadro. Puedes usar estos cuadros tarjetas.




nombre _____

fecha _____

prueba de la lección cuatro: encuentra las monedas de un centavo



instrucciones

Colorea todas las monedas de un centavo  que están a continuación.
¿Puedes encontrarlas todas?




prueba de la lección cuatro: ¿qué es el dinero?



encierra en un círculo la respuesta correcta para cada pregunta.

1. ¿Cuál es una moneda de un centavo?



2. Una moneda de cinco centavos es igual a cuántas monedas de un centavo.

- a. diez
- b. cuatro
- c. una
- d. cinco

3. Una moneda de diez centavos es igual a cuántas monedas de cinco centavos.

- a. una
- b. dos
- c. tres
- d. cuatro

4. Dos monedas de veinticinco centavos tienen el mismo valor que cinco monedas de diez centavos.

- Sí
- No

5. Cuatro monedas de veinticinco centavos son iguales a un dólar.


- Sí
- No

prueba de la lección cuatro: ¿qué es el dinero? clave de respuestas



encierra en un círculo la respuesta correcta para cada pregunta.

1. ¿Cuál es una moneda de un centavo?



2. Una moneda de cinco centavos es igual a cuántas monedas de un centavo.

- a. diez
- b. cuatro
- c. una
- d. cinco

3. Una moneda de diez centavos es igual a cuántas monedas de cinco centavos.

- a. una
- b. dos
- c. tres
- d. cuatro

4. Dos monedas de veinticinco centavos tienen el mismo valor que cinco monedas de diez centavos.

- Sí
- No

5. Cuatro monedas de veinticinco centavos son iguales a un dólar.

- Sí
- No